


UNIVERSITÀ DEGLI STUDI DI CATANIA

Facoltà' di Scienze politiche

A.A. 2010-2011 - Prova di ammissione con selezione locale
al primo anno dei corsi di laurea della Facoltà di Scienze Politiche[090]

| | A | B | C | D | E | | A | B | C | D | E | | A | B | C | D | E |
|----|--------------------------|--------------------------|--------------------------|--------------------------|--------------------------|----|--------------------------|--------------------------|--------------------------|--------------------------|--------------------------|----|--------------------------|--------------------------|--------------------------|--------------------------|--------------------------|
| 1 | <input type="checkbox"/> | <input type="checkbox"/> | <input type="checkbox"/> | <input type="checkbox"/> | <input type="checkbox"/> | 34 | <input type="checkbox"/> | <input type="checkbox"/> | <input type="checkbox"/> | <input type="checkbox"/> | <input type="checkbox"/> | 67 | <input type="checkbox"/> | <input type="checkbox"/> | <input type="checkbox"/> | <input type="checkbox"/> | <input type="checkbox"/> |
| 2 | <input type="checkbox"/> | <input type="checkbox"/> | <input type="checkbox"/> | <input type="checkbox"/> | <input type="checkbox"/> | 35 | <input type="checkbox"/> | <input type="checkbox"/> | <input type="checkbox"/> | <input type="checkbox"/> | <input type="checkbox"/> | 68 | <input type="checkbox"/> | <input type="checkbox"/> | <input type="checkbox"/> | <input type="checkbox"/> | <input type="checkbox"/> |
| 3 | <input type="checkbox"/> | <input type="checkbox"/> | <input type="checkbox"/> | <input type="checkbox"/> | <input type="checkbox"/> | 36 | <input type="checkbox"/> | <input type="checkbox"/> | <input type="checkbox"/> | <input type="checkbox"/> | <input type="checkbox"/> | 69 | <input type="checkbox"/> | <input type="checkbox"/> | <input type="checkbox"/> | <input type="checkbox"/> | <input type="checkbox"/> |
| 4 | <input type="checkbox"/> | <input type="checkbox"/> | <input type="checkbox"/> | <input type="checkbox"/> | <input type="checkbox"/> | 37 | <input type="checkbox"/> | <input type="checkbox"/> | <input type="checkbox"/> | <input type="checkbox"/> | <input type="checkbox"/> | 70 | <input type="checkbox"/> | <input type="checkbox"/> | <input type="checkbox"/> | <input type="checkbox"/> | <input type="checkbox"/> |
| 5 | <input type="checkbox"/> | <input type="checkbox"/> | <input type="checkbox"/> | <input type="checkbox"/> | <input type="checkbox"/> | 38 | <input type="checkbox"/> | <input type="checkbox"/> | <input type="checkbox"/> | <input type="checkbox"/> | <input type="checkbox"/> | 71 | <input type="checkbox"/> | <input type="checkbox"/> | <input type="checkbox"/> | <input type="checkbox"/> | <input type="checkbox"/> |
| 6 | <input type="checkbox"/> | <input type="checkbox"/> | <input type="checkbox"/> | <input type="checkbox"/> | <input type="checkbox"/> | 39 | <input type="checkbox"/> | <input type="checkbox"/> | <input type="checkbox"/> | <input type="checkbox"/> | <input type="checkbox"/> | 72 | <input type="checkbox"/> | <input type="checkbox"/> | <input type="checkbox"/> | <input type="checkbox"/> | <input type="checkbox"/> |
| 7 | <input type="checkbox"/> | <input type="checkbox"/> | <input type="checkbox"/> | <input type="checkbox"/> | <input type="checkbox"/> | 40 | <input type="checkbox"/> | <input type="checkbox"/> | <input type="checkbox"/> | <input type="checkbox"/> | <input type="checkbox"/> | 73 | <input type="checkbox"/> | <input type="checkbox"/> | <input type="checkbox"/> | <input type="checkbox"/> | <input type="checkbox"/> |
| 8 | <input type="checkbox"/> | <input type="checkbox"/> | <input type="checkbox"/> | <input type="checkbox"/> | <input type="checkbox"/> | 41 | <input type="checkbox"/> | <input type="checkbox"/> | <input type="checkbox"/> | <input type="checkbox"/> | <input type="checkbox"/> | 74 | <input type="checkbox"/> | <input type="checkbox"/> | <input type="checkbox"/> | <input type="checkbox"/> | <input type="checkbox"/> |
| 9 | <input type="checkbox"/> | <input type="checkbox"/> | <input type="checkbox"/> | <input type="checkbox"/> | <input type="checkbox"/> | 42 | <input type="checkbox"/> | <input type="checkbox"/> | <input type="checkbox"/> | <input type="checkbox"/> | <input type="checkbox"/> | 75 | <input type="checkbox"/> | <input type="checkbox"/> | <input type="checkbox"/> | <input type="checkbox"/> | <input type="checkbox"/> |
| 10 | <input type="checkbox"/> | <input type="checkbox"/> | <input type="checkbox"/> | <input type="checkbox"/> | <input type="checkbox"/> | 43 | <input type="checkbox"/> | <input type="checkbox"/> | <input type="checkbox"/> | <input type="checkbox"/> | <input type="checkbox"/> | 76 | <input type="checkbox"/> | <input type="checkbox"/> | <input type="checkbox"/> | <input type="checkbox"/> | <input type="checkbox"/> |
| 11 | <input type="checkbox"/> | <input type="checkbox"/> | <input type="checkbox"/> | <input type="checkbox"/> | <input type="checkbox"/> | 44 | <input type="checkbox"/> | <input type="checkbox"/> | <input type="checkbox"/> | <input type="checkbox"/> | <input type="checkbox"/> | 77 | <input type="checkbox"/> | <input type="checkbox"/> | <input type="checkbox"/> | <input type="checkbox"/> | <input type="checkbox"/> |
| 12 | <input type="checkbox"/> | <input type="checkbox"/> | <input type="checkbox"/> | <input type="checkbox"/> | <input type="checkbox"/> | 45 | <input type="checkbox"/> | <input type="checkbox"/> | <input type="checkbox"/> | <input type="checkbox"/> | <input type="checkbox"/> | 78 | <input type="checkbox"/> | <input type="checkbox"/> | <input type="checkbox"/> | <input type="checkbox"/> | <input type="checkbox"/> |
| 13 | <input type="checkbox"/> | <input type="checkbox"/> | <input type="checkbox"/> | <input type="checkbox"/> | <input type="checkbox"/> | 46 | <input type="checkbox"/> | <input type="checkbox"/> | <input type="checkbox"/> | <input type="checkbox"/> | <input type="checkbox"/> | 79 | <input type="checkbox"/> | <input type="checkbox"/> | <input type="checkbox"/> | <input type="checkbox"/> | <input type="checkbox"/> |
| 14 | <input type="checkbox"/> | <input type="checkbox"/> | <input type="checkbox"/> | <input type="checkbox"/> | <input type="checkbox"/> | 47 | <input type="checkbox"/> | <input type="checkbox"/> | <input type="checkbox"/> | <input type="checkbox"/> | <input type="checkbox"/> | 80 | <input type="checkbox"/> | <input type="checkbox"/> | <input type="checkbox"/> | <input type="checkbox"/> | <input type="checkbox"/> |
| 15 | <input type="checkbox"/> | <input type="checkbox"/> | <input type="checkbox"/> | <input type="checkbox"/> | <input type="checkbox"/> | 48 | <input type="checkbox"/> | <input type="checkbox"/> | <input type="checkbox"/> | <input type="checkbox"/> | <input type="checkbox"/> | 81 | <input type="checkbox"/> | <input type="checkbox"/> | <input type="checkbox"/> | <input type="checkbox"/> | <input type="checkbox"/> |
| 16 | <input type="checkbox"/> | <input type="checkbox"/> | <input type="checkbox"/> | <input type="checkbox"/> | <input type="checkbox"/> | 49 | <input type="checkbox"/> | <input type="checkbox"/> | <input type="checkbox"/> | <input type="checkbox"/> | <input type="checkbox"/> | 82 | <input type="checkbox"/> | <input type="checkbox"/> | <input type="checkbox"/> | <input type="checkbox"/> | <input type="checkbox"/> |
| 17 | <input type="checkbox"/> | <input type="checkbox"/> | <input type="checkbox"/> | <input type="checkbox"/> | <input type="checkbox"/> | 50 | <input type="checkbox"/> | <input type="checkbox"/> | <input type="checkbox"/> | <input type="checkbox"/> | <input type="checkbox"/> | 83 | <input type="checkbox"/> | <input type="checkbox"/> | <input type="checkbox"/> | <input type="checkbox"/> | <input type="checkbox"/> |
| 18 | <input type="checkbox"/> | <input type="checkbox"/> | <input type="checkbox"/> | <input type="checkbox"/> | <input type="checkbox"/> | 51 | <input type="checkbox"/> | <input type="checkbox"/> | <input type="checkbox"/> | <input type="checkbox"/> | <input type="checkbox"/> | 84 | <input type="checkbox"/> | <input type="checkbox"/> | <input type="checkbox"/> | <input type="checkbox"/> | <input type="checkbox"/> |
| 19 | <input type="checkbox"/> | <input type="checkbox"/> | <input type="checkbox"/> | <input type="checkbox"/> | <input type="checkbox"/> | 52 | <input type="checkbox"/> | <input type="checkbox"/> | <input type="checkbox"/> | <input type="checkbox"/> | <input type="checkbox"/> | 85 | <input type="checkbox"/> | <input type="checkbox"/> | <input type="checkbox"/> | <input type="checkbox"/> | <input type="checkbox"/> |
| 20 | <input type="checkbox"/> | <input type="checkbox"/> | <input type="checkbox"/> | <input type="checkbox"/> | <input type="checkbox"/> | 53 | <input type="checkbox"/> | <input type="checkbox"/> | <input type="checkbox"/> | <input type="checkbox"/> | <input type="checkbox"/> | 86 | <input type="checkbox"/> | <input type="checkbox"/> | <input type="checkbox"/> | <input type="checkbox"/> | <input type="checkbox"/> |
| 21 | <input type="checkbox"/> | <input type="checkbox"/> | <input type="checkbox"/> | <input type="checkbox"/> | <input type="checkbox"/> | 54 | <input type="checkbox"/> | <input type="checkbox"/> | <input type="checkbox"/> | <input type="checkbox"/> | <input type="checkbox"/> | 87 | <input type="checkbox"/> | <input type="checkbox"/> | <input type="checkbox"/> | <input type="checkbox"/> | <input type="checkbox"/> |
| 22 | <input type="checkbox"/> | <input type="checkbox"/> | <input type="checkbox"/> | <input type="checkbox"/> | <input type="checkbox"/> | 55 | <input type="checkbox"/> | <input type="checkbox"/> | <input type="checkbox"/> | <input type="checkbox"/> | <input type="checkbox"/> | 88 | <input type="checkbox"/> | <input type="checkbox"/> | <input type="checkbox"/> | <input type="checkbox"/> | <input type="checkbox"/> |
| 23 | <input type="checkbox"/> | <input type="checkbox"/> | <input type="checkbox"/> | <input type="checkbox"/> | <input type="checkbox"/> | 56 | <input type="checkbox"/> | <input type="checkbox"/> | <input type="checkbox"/> | <input type="checkbox"/> | <input type="checkbox"/> | 89 | <input type="checkbox"/> | <input type="checkbox"/> | <input type="checkbox"/> | <input type="checkbox"/> | <input type="checkbox"/> |
| 24 | <input type="checkbox"/> | <input type="checkbox"/> | <input type="checkbox"/> | <input type="checkbox"/> | <input type="checkbox"/> | 57 | <input type="checkbox"/> | <input type="checkbox"/> | <input type="checkbox"/> | <input type="checkbox"/> | <input type="checkbox"/> | 90 | <input type="checkbox"/> | <input type="checkbox"/> | <input type="checkbox"/> | <input type="checkbox"/> | <input type="checkbox"/> |
| 25 | <input type="checkbox"/> | <input type="checkbox"/> | <input type="checkbox"/> | <input type="checkbox"/> | <input type="checkbox"/> | 58 | <input type="checkbox"/> | <input type="checkbox"/> | <input type="checkbox"/> | <input type="checkbox"/> | <input type="checkbox"/> | 91 | <input type="checkbox"/> | <input type="checkbox"/> | <input type="checkbox"/> | <input type="checkbox"/> | <input type="checkbox"/> |
| 26 | <input type="checkbox"/> | <input type="checkbox"/> | <input type="checkbox"/> | <input type="checkbox"/> | <input type="checkbox"/> | 59 | <input type="checkbox"/> | <input type="checkbox"/> | <input type="checkbox"/> | <input type="checkbox"/> | <input type="checkbox"/> | 92 | <input type="checkbox"/> | <input type="checkbox"/> | <input type="checkbox"/> | <input type="checkbox"/> | <input type="checkbox"/> |
| 27 | <input type="checkbox"/> | <input type="checkbox"/> | <input type="checkbox"/> | <input type="checkbox"/> | <input type="checkbox"/> | 60 | <input type="checkbox"/> | <input type="checkbox"/> | <input type="checkbox"/> | <input type="checkbox"/> | <input type="checkbox"/> | 93 | <input type="checkbox"/> | <input type="checkbox"/> | <input type="checkbox"/> | <input type="checkbox"/> | <input type="checkbox"/> |
| 28 | <input type="checkbox"/> | <input type="checkbox"/> | <input type="checkbox"/> | <input type="checkbox"/> | <input type="checkbox"/> | 61 | <input type="checkbox"/> | <input type="checkbox"/> | <input type="checkbox"/> | <input type="checkbox"/> | <input type="checkbox"/> | 94 | <input type="checkbox"/> | <input type="checkbox"/> | <input type="checkbox"/> | <input type="checkbox"/> | <input type="checkbox"/> |
| 29 | <input type="checkbox"/> | <input type="checkbox"/> | <input type="checkbox"/> | <input type="checkbox"/> | <input type="checkbox"/> | 62 | <input type="checkbox"/> | <input type="checkbox"/> | <input type="checkbox"/> | <input type="checkbox"/> | <input type="checkbox"/> | 95 | <input type="checkbox"/> | <input type="checkbox"/> | <input type="checkbox"/> | <input type="checkbox"/> | <input type="checkbox"/> |
| 30 | <input type="checkbox"/> | <input type="checkbox"/> | <input type="checkbox"/> | <input type="checkbox"/> | <input type="checkbox"/> | 63 | <input type="checkbox"/> | <input type="checkbox"/> | <input type="checkbox"/> | <input type="checkbox"/> | <input type="checkbox"/> | 96 | <input type="checkbox"/> | <input type="checkbox"/> | <input type="checkbox"/> | <input type="checkbox"/> | <input type="checkbox"/> |
| 31 | <input type="checkbox"/> | <input type="checkbox"/> | <input type="checkbox"/> | <input type="checkbox"/> | <input type="checkbox"/> | 64 | <input type="checkbox"/> | <input type="checkbox"/> | <input type="checkbox"/> | <input type="checkbox"/> | <input type="checkbox"/> | 97 | <input type="checkbox"/> | <input type="checkbox"/> | <input type="checkbox"/> | <input type="checkbox"/> | <input type="checkbox"/> |
| 32 | <input type="checkbox"/> | <input type="checkbox"/> | <input type="checkbox"/> | <input type="checkbox"/> | <input type="checkbox"/> | 65 | <input type="checkbox"/> | <input type="checkbox"/> | <input type="checkbox"/> | <input type="checkbox"/> | <input type="checkbox"/> | 98 | <input type="checkbox"/> | <input type="checkbox"/> | <input type="checkbox"/> | <input type="checkbox"/> | <input type="checkbox"/> |
| 33 | <input type="checkbox"/> | <input type="checkbox"/> | <input type="checkbox"/> | <input type="checkbox"/> | <input type="checkbox"/> | 66 | <input type="checkbox"/> | <input type="checkbox"/> | <input type="checkbox"/> | <input type="checkbox"/> | <input type="checkbox"/> | 99 | <input type="checkbox"/> | <input type="checkbox"/> | <input type="checkbox"/> | <input type="checkbox"/> | <input type="checkbox"/> |

Visto Commissione



090

ISTRUZIONI PER LA COMPILAZIONE DEL FOGLIO RISPOSTE

Prima di iniziare la prova il candidato legga attentamente le indicazioni riportate di seguito

Per rispondere alle domande è necessario utilizzare esclusivamente una **penna a sfera nera** e **contrassegnare con una X le caselle** secondo gli esempi riportati nella tabella:

| <p>Rispondere a una domanda</p> <p>Ogni domanda ammette <u>una e una sola</u> risposta.</p> <p>Per rispondere il candidato inserisca una X da un angolo all'altro della casella corrispondente alla risposta esatta, avendo cura di rimanere entro i bordi della casella stessa.</p> | <p><i>Esempio di marcatura valida</i></p> <table border="1"><thead><tr><th></th><th>A</th><th>B</th><th>C</th><th>D</th><th>E</th></tr></thead><tbody><tr><td>1</td><td>X</td><td></td><td></td><td></td><td></td></tr></tbody></table> | | A | B | C | D | E | 1 | X | | | | | | | | | | | | | | | | |
|---|---|---|---|---|---|---|---|---|---|---|--|--|--|--|---|---|---|---|---|---|---|---|---|---|---|
| | A | B | C | D | E | | | | | | | | | | | | | | | | | | | | |
| 1 | X | | | | | | | | | | | | | | | | | | | | | | | | |
| <p>Correggere una risposta</p> <p>Il candidato <u>annerisca completamente</u> la casella corrispondente alla risposta errata e metta una X sulla casella relativa alla risposta esatta.</p> <p>Attenzione: come mostra l'immagine per ogni domanda è <u>possibile una sola correzione</u> annerendo la casella contenente la risposta sbagliata e mettendo una X sulla casella corrispondente alla risposta esatta.</p> | <p><i>Esempio di risposta corretta</i></p> <table border="1"><thead><tr><th></th><th>A</th><th>B</th><th>C</th><th>D</th><th>E</th></tr></thead><tbody><tr><td>1</td><td>■</td><td>X</td><td></td><td></td><td></td></tr></tbody></table> | | A | B | C | D | E | 1 | ■ | X | | | | | | | | | | | | | | | |
| | A | B | C | D | E | | | | | | | | | | | | | | | | | | | | |
| 1 | ■ | X | | | | | | | | | | | | | | | | | | | | | | | |
| <p>Non rispondere a una domanda o annullare una risposta</p> <p>Per non rispondere a una domanda o annullare una risposta già data il candidato <u>lasci in bianco o annerisca completamente</u> tutte la fila di caselle associate alla domanda.</p> <p>Attenzione: l'annerimento della singola casella non annulla la risposta.</p> | <p><i>Esempi di risposte non date o annullate</i></p> <table border="1"><thead><tr><th></th><th>A</th><th>B</th><th>C</th><th>D</th><th>E</th></tr></thead><tbody><tr><td>1</td><td></td><td></td><td></td><td></td><td></td></tr></tbody></table> <table border="1"><thead><tr><th></th><th>A</th><th>B</th><th>C</th><th>D</th><th>E</th></tr></thead><tbody><tr><td>1</td><td>■</td><td>■</td><td>■</td><td>■</td><td>■</td></tr></tbody></table> | | A | B | C | D | E | 1 | | | | | | | A | B | C | D | E | 1 | ■ | ■ | ■ | ■ | ■ |
| | A | B | C | D | E | | | | | | | | | | | | | | | | | | | | |
| 1 | | | | | | | | | | | | | | | | | | | | | | | | | |
| | A | B | C | D | E | | | | | | | | | | | | | | | | | | | | |
| 1 | ■ | ■ | ■ | ■ | ■ | | | | | | | | | | | | | | | | | | | | |

AVVERTENZE:

Il sistema di correzione automatica equipara a “nessuna risposta” ogni caso non contemplato nel presente foglio di istruzioni.

È fatto divieto scambiare i fogli risposta con altri candidati perché questo impedirebbe la correzione del compito e la prova sarebbe annullata.

È vietato apporre sul foglio risposte qualsiasi altro segno che non sia tra quelli consentiti per indicare, correggere o annullare le risposte stesse.

Il foglio risposte deve essere riconsegnato integro, non macchiato e non piegato.



UNIVERSITÀ DEGLI STUDI DI CATANIA
Facoltà di Scienze politiche
A.A. 2010-2011 - Prova di ammissione con selezione locale
al primo anno dei corsi di laurea della Facoltà di Scienze Politiche
[090]

Il candidato controlli che il codice 00000300001 risulti uguale a quello del codice a barre stampato sul Foglio Risposte.
Ai fini della prova il solo documento valido è il Foglio Risposte.

CONOSCENZE STORICHE

1. Quale organo dello Stato deve accordare la fiducia al Governo?

- A) Parlamento
- B) Capo dello Stato
- C) Camera dei deputati
- D) Senato

2. Secondo l'art. 139 della Costituzione italiana, la forma repubblicana:

- A) non può essere oggetto di revisione costituzionale
- B) può essere oggetto di revisione costituzionale, come ogni altro articolo
- C) può essere oggetto di revisione costituzionale con approvazione di un referendum popolare
- D) può essere oggetto di revisione costituzionale solamente per decisione delle camere riunite in seduta comune

3. In Italia, il diritto di aderire a una formazione politica:

- A) è sottoposto a controllo da parte degli organi dello Stato
- B) è libero e pieno, a meno che si tratti di un'organizzazione tendente a riorganizzare il partito fascista
- C) è sempre pieno e libero, ed è anche possibile aderire a una formazione fascista
- D) è libero e pieno in generale, ma vietato per alcune categorie di cittadini (militari, sacerdoti ecc.)

4. In Italia, tutti possono professare liberamente la propria fede religiosa?

- A) Sì, deve però essere un culto non contrario al buon costume
- B) No, solo la fede cattolica è religione di Stato
- C) Sì, ma solo della religione cattolica può farsi legittimamente propaganda
- D) No, deve essere una fede riconosciuta dallo Stato

5. Cos'è la «diaspora» del popolo ebraico?

- A) La dispersione degli ebrei nel mondo
- B) La persecuzione del popolo ebraico
- C) Il dominio degli ebrei sui palestinesi
- D) Il passaggio degli ebrei in Egitto

6. La «Shoah» è:

- A) il termine ebraico per sionismo
- B) la guerra combattuta tra Israele e l'Egitto
- C) l'olocausto degli ebrei durante il nazismo
- D) il capodanno ebraico

7. Hitler assunse il potere in Germania:

- A) proponendo un programma di riconciliazione nazionale
- B) in seguito a un colpo di Stato violento
- C) grazie all'appoggio militare di Mussolini
- D) in seguito a libere elezioni

8. Con quale altro nome è meglio conosciuto il piano per la ricostruzione economica europea messo a punto negli Stati Uniti all'indomani della seconda guerra mondiale?

- A) Piano Reeves
- B) Piano Dayan
- C) Piano Marshall
- D) Piano Dawes

- 9. Cosa si intende, nell'ordinamento delle società occidentali contemporanee, con l'espressione «Divisione dei poteri»?**
- A) La divisione dei poteri tra stato e chiesa
 - B) La separazione dei poteri economico; politico e religioso
 - C) La distribuzione dei poteri tra i diversi gruppi di una società
 - D) La separazione dei poteri legislativo, esecutivo e giudiziario
- 10. Le prime votazioni italiane alle quali partecipò l'elettorato femminile si svolsero nel:**
- A) 1898
 - B) 1912
 - C) 1946
 - D) 1958
- 11. In quale città italiana si riunì il primo parlamento nazionale?**
- A) Milano
 - B) Firenze
 - C) Roma
 - D) Torino
- 12. Quale evento si verificò in Italia l'8 settembre 1943?**
- A) La cattura di Mussolini
 - B) L'armistizio con gli Alleati
 - C) Il primo attacco partigiano
 - D) Lo sbarco degli Alleati in Sicilia
- 13. Quale tra le seguenti può essere una corretta definizione di "colonialismo"?**
- A) Politica statale, in particolare europea, diretta a conquistare territori o ad associarli allo Stato, esercitandovi un controllo economico, politico e amministrativo
 - B) Politica statale diretta a estinguere razze diverse dalla propria, ritenute inferiori e pericolose
 - C) Trasferimento di persone da uno Stato a un altro, dettato soprattutto da necessità economiche
 - D) Politica statale o ecclesiastica diretta a convertire, in via più o meno pacifica, altri popoli alla propria religione
- 14. In base alla Costituzione Italiana, la Repubblica è una e indivisibile?**
- A) No, perché è divisa in tre zone
 - B) Sì, ma è costituzionalmente prevista la possibilità di divisione
 - C) No, perché è divisa in tante regioni
 - D) Sì
- 15. Secondo la Costituzione, lo straniero al quale sia impedito nel suo Paese l'effettivo esercizio delle libertà democratiche garantite dalla Costituzione italiana:**
- A) ha diritto d'asilo nel territorio della Repubblica
 - B) può ottenere la cittadinanza italiana
 - C) non può avere accesso al territorio della Repubblica
 - D) deve essere estradato in Italia

LINGUA ITALIANA E COMPRESIONE DEL TESTO

- 16. Completare correttamente la frase seguente:
Oggi giorno la cartanon riporta che pettegolezzi.**
- A) patinata
 - B) platinata
 - C) pattinata
 - D) pettinata
- 17. Completare la seguente frase:
"Il saldo contabile è quello ... in un dato momento in base a tutte le operazioni che sono state ... a debito e a credito del correntista":**
- A) registrata; poste
 - B) atteso; in
 - C) che; sì
 - D) risultante; registrate

18. Quale delle seguenti serie riporta il corretto ordine cronologico degli autori?

- A) Carducci, D'Annunzio, Pirandello, Pasolini
- B) Carducci, D'Annunzio, Pasolini, Pirandello
- C) Carducci, Pirandello, D'Annunzio, Pasolini
- D) Pasolini, Carducci, D'Annunzio, Pirandello

19. Cosa s'intende per clonazione?

- A) Qualunque procedimento volto a produrre un essere umano con le stesse informazioni genetiche di un altro essere umano
- B) L'insieme dei procedimenti di produzione, lavorazione e impiego di materiale biologico
- C) La produzione di un elemento del corpo umano mediante un procedimento tecnico
- D) Qualunque invenzione relativa a materiale biologico

20. Il protagonista del romanzo Il Gattopardo è:

- A) Tancredi
- B) Andrea Sperelli
- C) Padron 'Ntoni
- D) Don Fabrizio di Salina

21. Qual è un sinonimo di *evincere*?

- A) Concludere
- B) Riuscire
- C) Ricavare
- D) Discutere

22. Quale delle seguenti alternative non contiene errori?

- A) Ventitre chilometri non sono pochi
- B) Andava pei suoi affari
- C) Il vecchio ripensava a' quei tempi andati
- D) La palla è rossa e blù

23. Che cosa indica la parola sciovinismo?

- A) L'avversione per gli zingari
- B) Una forma di maschilismo esasperato
- C) Una forma di nazionalismo esasperato
- D) Un atteggiamento prepotente

24. Quale delle seguenti proposizioni contiene un verbo ausiliare?

- A) Io sono colui che viene
- B) Ha una nuova fidanzata
- C) Si serve della mia macchina per andare dalla parrucchiera
- D) Ieri sono andato a pescare

25. Il saldo della bilancia commerciale di un Paese indica:

- A) la differenza fra esportazioni e importazioni di merci e valute
- B) la differenza fra esportazioni e importazioni di merci
- C) le esportazioni di merci verso l'estero
- D) l'aumento delle esportazioni da un anno all'altro

26. Quali tra le seguenti parole hanno un significato analogo tra loro?

- 1 Perseguire
- 2 Inseguire
- 3 Perseguire
- 4 Attentare

- A) 2-3
- B) 1-2
- C) 1-3
- D) 1-4

27. Quando è da evitare l'uso della virgola?

- A) Prima e dopo un inciso
- B) Nelle enumerazioni e negli elenchi
- C) Dopo un vocativo
- D) Tra predicato e complemento oggetto



28. Individuare il soggetto della proposizione seguente: Pattinare è la cosa che mi piace di più al mondo.

- A) Io (sottinteso)
- B) Cosa
- C) Mi
- D) Pattinare

29. Il sinonimo di *ibrido* è:

- A) miscuglio
- B) speciale
- C) ibernato
- D) gene

30. Si dice che in un mercato vige un regime di monopolio quando:

- A) sono contemporaneamente presenti numerosi venditori e numerosi acquirenti
- B) vi è una sola impresa che offre un dato bene o servizio e la domanda è frazionata fra numerosi consumatori
- C) vi sono numerose imprese che offrono un dato bene o servizio e la domanda è concentrata in un unico consumatore
- D) il numero di imprese che offrono un dato bene o servizio è estremamente limitato

31. Quale delle seguenti espressioni è errata?

- A) Un gatto
- B) Un olmo
- C) Un eco
- D) Un uomo

32. Individuare, tra le seguenti, la frase che contiene uno o più errori.

- A) I Tedeschi avevano catturato due dei nostri, tra cui il vicecomandante
- B) Adesso, la formazione partigiana di cui facevo parte era in serio pericolo
- C) C'era il rischio di vederseli piombare addosso i Tedeschi all'improvviso e da ogni parte
- D) Quando tornai dalla missione, trovai che niente andava per il verso giusto

33. Qual è un sinonimo di *nemesi*?

- A) Cantilena
- B) Rovesciamento
- C) Vendetta
- D) Cirro cumulo

34. Qual è il contrario della parola *acrimonia*?

- A) Disponibilità
- B) Riservatezza
- C) Affabilità
- D) Comprensione

35. Cos'è l'editoriale?

- A) Lo spazio delle pagine culturali di un giornale dedicato alla critica e alla letteratura in genere
- B) Una tiratura eccezionale di un giornale, legata a eventi di grande rilevanza
- C) Il testo che appare sulla quarta di copertina di un libro
- D) Un articolo di fondo ospitato sulla prima pagina di un giornale

36. L'embargo è:

- A) la moratoria nucleare
- B) la chiusura delle frontiere agli extra-comunitari
- C) l'isolamento politico e commerciale
- D) l'intimazione di resa

37. Qual è il significato di *messe*?

- A) Avviso
- B) Portatore di notizie
- C) Raccolto
- D) Attrezzo per raccogliere l'acqua

Leggere il seguente brano e rispondere ai quesiti.

La popolarità di Sherlock Holmes, in Inghilterra e all'estero, fu dovuta al fatto che il personaggio creato da Sir Arthur Conan Doyle

era un figlio emblematico del suo tempo.

Holmes era abbastanza inglese da permettere ai suoi compatrioti di riconoscersi in lui e agli stranieri di trovarlo assolutamente tipico e perfettamente incarnante il modo di vita e la cultura vittoriana. E' dotato di buone maniere e autocontrollo, eleganza sobria e una discreta dose di antifemminismo che talvolta sconfinava nel disprezzo per le donne. Consideriamo la tecnica che Holmes preferisce usare. E' un condensato della filosofia positivista e dello scientismo tipico di un periodo che rifiuta le categorie metafisiche. Il dato non verificabile è messo in dubbio, e la tecnologia e le leggi economiche acquistano un significato assoluto.

Può essere interessante notare che, a differenza dei gialli moderni, l'intreccio conta relativamente poco nei libri di Sir Conan Doyle. Il nocciolo della storia è nella conclusione dove Holmes, col distacco necessario, spiega tutto. Il successo moderno di Holmes è probabilmente dovuto al suo essere l'opposto di molti protagonisti di romanzi polizieschi moderni, che sono violenti e nel complesso goffi. Al contrario Holmes è un personaggio raffinato con tendenze decadenti fra i tipi vittoriano ed edoardiano. Il suo perfetto raziocinio e una sottile auto-ironia gli assicurano una eterna vitalità. Chiunque desideri un antidoto contro la rumorosa invadenza dei detective moderni, può rivolgersi a lui con fiducia.

38. Con quale aggettivo viene descritto Holmes, nel brano?

- A) Moderno
- B) Raffinato
- C) Violento
- D) Goffo

39. Come viene definito Doyle, nel brano?

- A) Un positivista
- B) Un idealista
- C) Un metafisico
- D) Un socratico

40. Come viene definito nel brano Holmes?

- A) Sobrio
- B) Antifemminista
- C) Esoterico
- D) Misogino

ABILITÀ LOGICO-MATEMATICHE

41. Quale tra le sillabe indicate nelle alternative, preposta alla prima e aggiunta alla seconda sillaba di seguito proposta, dà due parole di senso compiuto? ti - ar

- A) mu
- B) mi
- C) re
- D) te

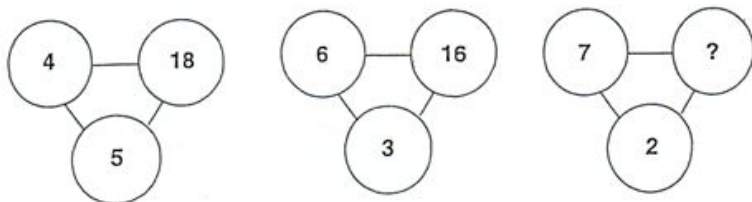
42. Tre imbianchini, lavorando insieme, impiegano 5 ore per dipingere una stanza di 200 metri quadrati. Per compiere lo stesso lavoro, lavorando da solo, il primo imbianchino impiegherebbe 20 ore, mentre il secondo imbianchino impiegherebbe 10 ore. Quanto tempo impiegherebbe il terzo imbianchino a dipingere da solo la stanza?

- A) 16 ore
- B) 30 ore
- C) come il primo
- D) come il secondo

43. Il 40% degli studenti di una scuola è rappresentato da ragazze. Di queste, l'80% sono brune. Sapendo che le ragazze non brune sono 160, quanti sono in totale gli studenti della scuola?

- A) 900
- B) 400
- C) 2000
- D) 200

44. Individuare il numero mancante.



- A) 10
- B) 20
- C) 12
- D) 14

45. Individuare la coppia di termini che completa la proporzione data.

x: aggressivo = docile: y

- A) x = remissivo, y = battagliero
- B) x = ostilità, Y = mitezza
- C) x = torte, y = debole
- D) x = malevolo, y = bonario

46. Indicare per ciascuna delle successioni riportate di seguito, il numero mancante.

3, 7, 10, 17, 27, 44,.....?

- A) 57
- B) 60
- C) 71
- D) 47

47. Individuare il numero mancante.

| | | | |
|---|----|----|----|
| 0 | 0 | 0 | 0 |
| 9 | 9 | 9 | 9 |
| 9 | 18 | 27 | 36 |
| 9 | 27 | 54 | ? |

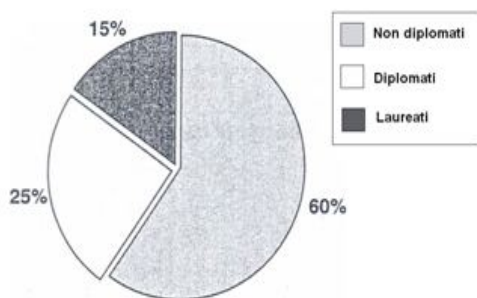
- A) 0
- B) 72
- C) 9
- D) 90

48. Individuare la coppia di termini che completa la proporzione data.

Neurone : x = y : molecola

- A) x = RNA, Y = acido
- B) x = proteina, y = vitamina
- C) x = sinapsi, y = nervi
- D) x = cellula, y = DNA

49. Sapendo che la ripartizione per titolo di studio dei dipendenti dell'azienda Nipponk è quella rappresentata nel grafico seguente e che il numero di laureati è pari a 18, individuare qual è il numero di non diplomati presenti in azienda.



- A) 67
- B) 72
- C) 94
- D) 62

50. Se quattro panettieri, lavorando allo stesso ritmo, impiegano 2 ore per preparare 10 kg di pane, quanto impiegherebbe uno solo di essi per preparare 5 kg di pane?

- A) 4 ore
- B) 12 ore
- C) 2 ore
- D) 8 ore

51. Se un bambino mangia dapprima $\frac{1}{3}$ di un barattolo di marmellata e poi $\frac{3}{4}$ della parte rimanente, che parte del contenuto iniziale rimane alla fine?

- A) $\frac{1}{12}$
- B) $\frac{1}{6}$
- C) $\frac{5}{12}$
- D) $\frac{1}{4}$

52. Luca invia € 10.000 a Pippo che ne spende una quota imprecisata. Il resto viene da Pippo "girato" ad Andrea che, dopo averne speso il 75%, si ritrova ancora disponibili € 1.200. Quale quota percentuale della somma originaria ha speso Pippo?

- A) non è possibile rispondere
- B) il 48%
- C) il 75%
- D) il 52%

53. Tra 150 persone si trovano 30 maggiorenni. Quale percentuale del gruppo di persone è minorenni?

- A) 150%
- B) 20%
- C) 80%
- D) 70%

54. Lavorando insieme, Aldo, Giovanni e Giacomo fabbricano 10 tubi in 2 ore; Aldo da solo impiegherebbe 5 ore e Giovanni da solo ne impiegherebbe 10. Quanto impiegherebbe Giacomo da solo a fabbricare i 10 tubi?

- A) 30 minuti
- B) 10 ore
- C) 5 ore
- D) 3 ore

**55. Individua il numero che completa la serie:
45, 42, 37, 30, 21, ...**

- A) 12
- B) 11
- C) 20
- D) 10

56. Marta e Luisa lavorano a 10 km di distanza. Un giorno partono dal luogo di lavoro alle ore 17 per incontrarsi in un bar che si trova esattamente a metà strada tra le due. Se Marta viaggia alla velocità di 30 chilometri all'ora e Luisa a 90 chilometri all'ora, quanti minuti quest'ultima dovrà attendere l'arrivo dell'amica al bar?

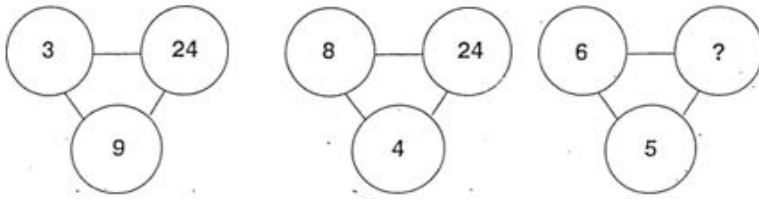
- A) circa 15
- B) circa 2
- C) circa 1
- D) circa 7

57. Il 10% di X è pari a 15; X è il 30% di Y. Quanto vale Y?

- A) 250
- B) 300
- C) 500
- D) 1500



58. Individuare il numero mancante.



- A) 8
- B) 22
- C) 10
- D) 18

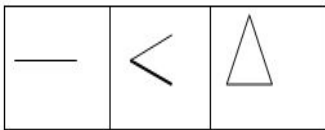
59. Una scatola contiene 12 penne: 8 rosse e 4 nere. Qual è la probabilità che estraendo due penne dalla scatola queste siano entrambe nere?

- A) 6
- B) $1/3$
- C) $1/11$
- D) $9/25$

60. Ogni 150 studenti che si iscrivono all'università se ne laureano 25. Di quelli che non si laureano, tre su cinque abbandonano l'università prima del terzo anno. Per ogni 600 studenti iscritti, quanti sono quelli che abbandonano l'università dal terzo anno in poi?

- A) 125
- B) 300
- C) 175
- D) 200

61. Qual è l'elemento mancante?



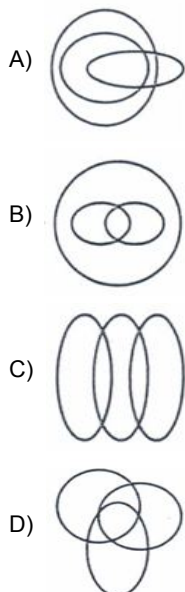
- A) □
- B) ✕
- C) ∴
- D) ○

62. A un concorso pubblico vengono ammessi 3 candidati su 15. Sapendo che per tale concorso vi sono 335 candidati, si determini il numero di posti disponibili.

- A) 67
- B) 45
- C) 23
- D) 30

63. Indicare il diagramma (A,B,C,D) che soddisfa la relazione insiemistica esistente tra i tre termini dati.

Bruni, italiani, coloro che si chiamano Mario



64. Quale tra le sillabe indicate nelle alternative, aggiunta alla prima e preposta alla seconda sillaba di seguito proposte, dà due parole di senso compiuto? nu - nu

- A) do
- B) be
- C) me
- D) sco

65. Scartare la serie intrusa tra le seguenti.

- A) Bisturi, forcipe, stetoscopio, sfigmomanometro
- B) Cazzuola, livella, crivello, pala
- C) Piaalla, sega, lima, martello
- D) Canna, amo, bilanciere, lenza

COMPETENZE ED ABILITÀ IN UNA LINGUA DELL'UNIONE EUROPEA - INGLESE O FRANCESE

Lo studente risponda ad una sola delle due sezioni proposte, inglese o francese, pena l'esclusione dalla prova.

Inglese

66. Segnare la risposta giusta.

- A) Yesterday I have seen him at the party.
- B) Yesterday I saw him at party.
- C) Yesterday I him saw at the party.
- D) Yesterday I saw him at the party.

67. Segnare la risposta giusta.

- A) My father does the engineer.
- B) My father is an engineer.
- C) My father is engineer.
- D) My father does engineer.

68. Segnare la risposta giusta.

- A) I have a new car.
- B) I have a car new.
- C) I have car new.
- D) I have new car.

69. Segnare la risposta giusta.

- A) It is the best car to the world.
- B) It is the best car on the world.
- C) It is the best car of the world.
- D) It is the best car in the world.

70. Segnare la risposta giusta.

- A) He is intelligenter of his sister.
- B) He is intelligenter than his sister.
- C) He is more intelligent of his sister.
- D) He is more intelligent than his sister.

71. Segnare la risposta giusta.

- A) He has a crown at his head.
- B) He has a crown in his head.
- C) He has a crown on his head.
- D) He has a crown on the head.

72. Segnare la risposta giusta.

- A) We met up New York.
- B) We met on New York.
- C) We met in New York.
- D) We met around New York.

Francese

73. Je trouve _____ livre particulièrement intéressant.

- A) ces
- B) cette
- C) cet
- D) ce

74. Valérie, s'il te plaît, _____ acheter le pain?

- A) aller
- B) vas
- C) allez
- D) va

75. Mélanie _____ au ballon.

- A) jout
- B) joue
- C) jouer
- D) joué

76. La fille _____ tu as connue hier s'appelle Fanny.

- A) qui
- B) que
- C) laquelle
- D) dont

77. _____ fait tourner le monde?

- A) Qu'est-ce qui
- B) Qu'
- C) Quel
- D) Quoi

78. _____ partie?

- A) Est-elle
- B) A-t-elle
- C) Est
- D) Est-t-elle

79. J'aime beaucoup _____ .

- A) voyagez
- B) voyagere
- C) voyager
- D) voyage

80. _____ la fenêtre.

- A) Ouvrire
- B) Ouvris
- C) Ouvres
- D) Ouvre



